

武汉理工大学考试试题纸 (B卷)

课程名称: 西方经济学 专业名称: _____

题号	一	二	三	四	五	六	七	八	九	十	总分
题分											

备注: 学生不得在试题纸上答题 (含填空题、选择题等客观题)

一、名词解释 (8×2=16分)

微观分析

市场需求

需求的收入弹性

效用无差异曲线

微观经济的长期。

规模经济

垄断

市场失灵

二、问答题 (5×6=30分)

1、请阐述经济人假设

2、画出某一种商品需求—供给均衡图,算出均衡价格与均衡产量。下述情况供给需求曲线有何变化?均衡价格与均衡产量如何变动?

①因自然原因商品生产原料丰收

②国民收入增加

③政府规定支持价格

④另一种功能相同商品价格大下降

⑤人口减少

3、画出厂商在竞争市场中,收支相抵的均衡图并作说明。现经济发展国民收入增加,画图说明均衡的变化

4、画出宏观经济两部门收入流量循环图并写出模型的方程

5、阐述经济政策工具,并对每个工具答出说明

三、是非判断题 (15×1=15分)

1. 如果技术进步了,生产可能性边界就会向外移动。()

2. 如果需求增加了,那么,均衡价格就会上升,交易量会减少。()

3. 某种物品越是易于被替代，其需求也就越缺乏弹性。()
4. 边际效用递减规律认为，随着消费量的增加，总效用递减，边际效用递增。()
5. 预算线凹向原点。()
6. 短期是至少一种投入量固定，一种投入量可变的时期。()
7. 在长期中，总成本曲线就是可变总成本曲线。()
8. 如果一个企业在经济上是有效率的，那么，它就必定实现了配置效率。()
9. 如果在现有产量水平时边际收益大于边际成本，那么，增加产量就可以增加利润。()
10. 垄断竞争下配置效率不如完全竞争的原因在于产品差别的存在。()
11. 等成本线表明了用既定量总成本所能购买的资本量与劳动量的所有组合。()
12. 每一元钱对富人和穷人的效用是相同的。()
13. 引起长期通货膨胀的主要因素是总需求的持续增加。()
14. 实际工资率提高会增加闲暇的机会成本。()
15. 名义国民生产总值增长率等于实际国民生产总值增长率减通货膨胀率。()

四、选择题 (10×2=20分)

1. 现有资源不能充分满足人的欲望这一事实被称为 ()
 - a. 机会成本 b. 稀缺性 c. 规范经济学 d. 生产什么的问题
2. 凹向原点的生产可能性边界 ()
 - a. 反映了递增的机会成本的存在 b. 反映了递减的机会成本的存在
 - c. 是由于技术进步 d. 是由于随着某种物品价格上升，该物品的消费减少了
3. 如果 A 物品价格上升引起 B 物品需求曲线向左方移动，那么 ()
 - a. A 与 B 是替代品 b. A 与 B 是互补品 c. B 一定是抵挡物品 d. A 一定是正常物品
4. A 物品价格从 7 元上升为 9 元，这就引起供给量从 4500 单位增加到 5500 单位。该物品的供给弹性是 ()
 - a. 0.625 b. 0.8 c. 1.0 d. 1.25
5. 一个人从物品与劳务消费中得到的好处或满足称为 ()
 - a. 边际效用 b. 效用 c. 消费需求 d. 消费者均衡
6. 预算线取决于 ()
 - a. 收入 b. 价格 c. 收入与价格 d. 偏好
7. 如果年利率为 10%，两年后 100 元的现值是 ()
 - a. 80 元 b. 82.64 元 c. 90.91 元 d. 120 元

8. 总成本曲线 (TC) 与可变总成本曲线 (TVC) 之间的垂直距离 ()

- a. 随产量减少而递减 b. 等于平均固定成本 (AFC)
c. 等于固定总成本 (TFC) d. 等于边际成本 (MC)

9 在短期中, 企业所能出现的最大经济亏损是 ()

- a. 零 b. 其总成本 c. 其可变总成本 d. 其固定总成本

10. 如果 1987 年底的物价指数是 128, 1988 年底的物价指数是 136, 那么, 1988 年的通货膨胀率是

()

- a. 4.2% b. 5.9% c. 6.25% d. 8%

五、计算分析 (19 分)

1. 假定某国 2000 年的国民收入及有关资料如下表: 单位 10 亿元

项目	指标值
国民收入	8000
公司利润	650
净利息	620
社会保障支出	530
政府对个人的转移支付	680
个人利息收入	650
个人股利收入	350
企业转移支付	140
个人税收和非税支付	800
个人支出	5400

依上述资料计算个人收入、个人可支配收入、个人储蓄。(9 分)

2. 假定每单位劳动价格为 2000 元。固定投入量为 4000 元。每月产量增加的情况如表所示。

劳动量	0	1	2	3	4	5	6	7	8
产量	0	1	4	10	19	26	31	34	36

(1) 计算 TC TVC AVC AFC ATC 与 MC。

(2) 画出各类总成本曲线 (TC TVC FC)。

(3) 画出各类短期平均成本曲线。(AVC AFC ATC 与 MC (10 分))

西方经济学 B 标答

一、名词解释 (8×2=16 分)

微观分析：研究单个经济单位的经济行为及相关经济总量的理论。

市场需求：特定市场及特定时期内，消费者在各种可能价格购买的某个商品的总数量。

需求的收入弹性：需求量变动百分比与收入变动百分比的比值。

效用无差异曲线：对消费者能产生同等满足程度的各种不同商品组合的轨迹。

微观经济的长期：全部生产要素可变时期。

规模经济：由于生产规模扩大导致长期平均成本下降的情况。

垄断：一种市场组织，这种市场组织中，一种产品市场上只有一个卖主。

市场失灵：市场不能提供符合社会效率条件的商品或劳务的场合。

二、问答题 (5×6=30 分)

答案要点：

1. (1) 经济主体追求自身经济利益最

(2) 从事经济活动的人都是理性的

2、①供给曲线 右移 均衡价格下降 均衡产量上升

②需求曲线 右移 均衡价格上升

③均衡不存在，人为成非均衡

④需求曲线 左移 供给曲线 右移

⑤均衡价格下降 均衡数量变动不大

3、

国收入增加，商品均衡使价格上升，厂商由零经济利润转为有正的利润，产量增加。

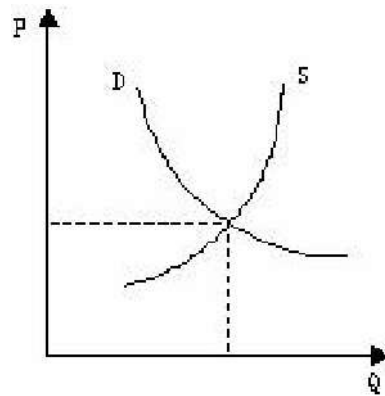
MC 边际成本

AC 平均成本

AR 平均收益

MR 边际收益

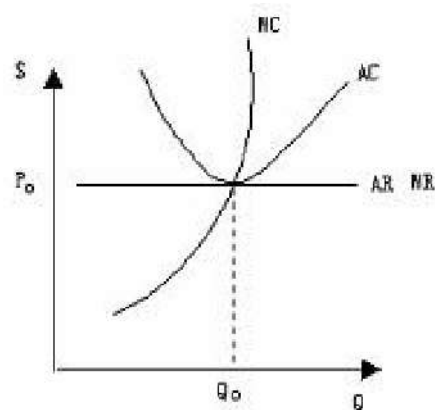
4、Y 国民收入 C 消费 I 储蓄



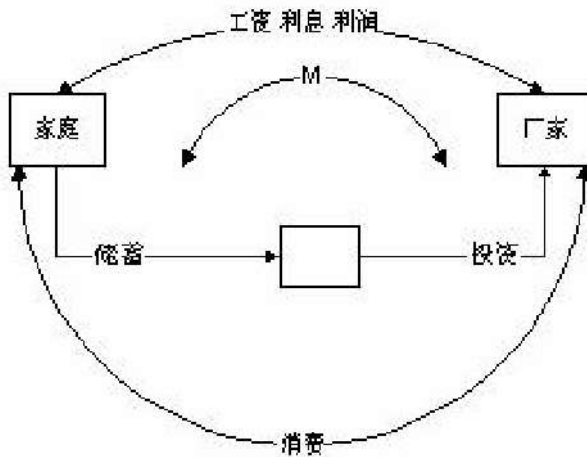
大化

降 均衡产

均衡产量上



投资 S



5、税收政策：决定税率及应税项目

政府支出政策：包括政府购卖决策转移支会决策

法定准备率：商业银行将所吸收存款，按中央银行要求此例作为准备全面保持在手中

再贴现率：商业银行向中央银行贷款时的利率

公开市场政策：又称公开市场操作，中央银行通过在国债市场上公开买卖债来发货币供给量

三、是非判断题（15×1=15分）

√ × × × × √ √ × √ × √ × √ √ ×

四、选择题（10×2=20分）

b a b b b c c c d c

五、计算分析（22分）

1. 个人收入=8000-650-620-530+680+650+350+140=8020

个人可支配收入=8020-800=7220

个人储蓄=7220-5400=1820

2.

L	Q	TC	TVC	ATC	AVC	AFC	MC
0	0	4000	-	-	-	-	-
1	1	6000	2000	6000	2000	4000	2000
2	4	8000	4000	2000	1000	1000	666.67
3	10	10000	6000	1000	600	400	333.33
4	19	12000	8000	631.58	421.05	210.53	222.22
5	26	14000	10000	538.46	384.62	153.84	285.71

6	31	16000	12000	516.13	387.10	129.03	400
7	34	18000	14000	529.41	411.76	117.65	666.67
8	36	20000	16000	555.56	444.44	111.11	1000